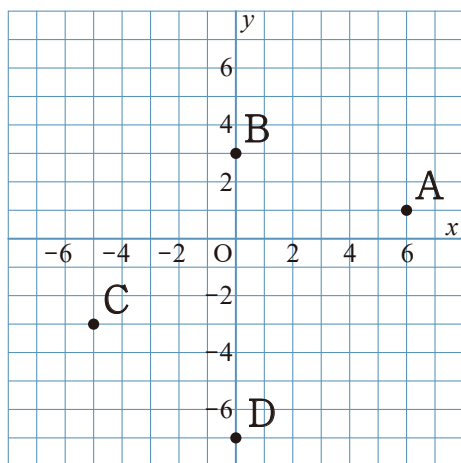
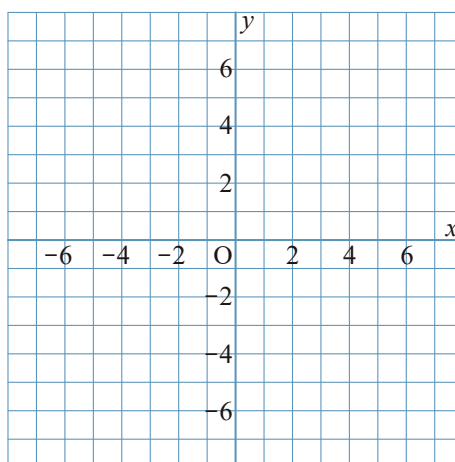


1 次の図の点A, B, C, Dの座標を答えなさい。



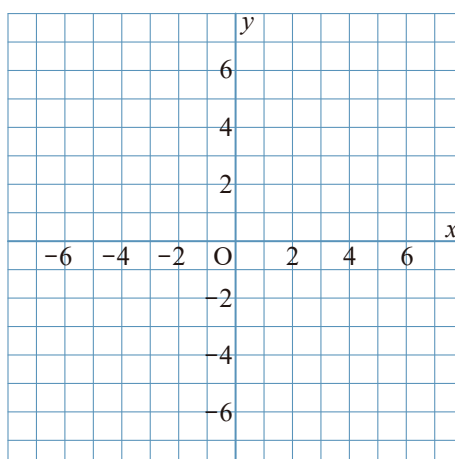
2 次の点A, B, C, Dの位置を、座標平面上に示しなさい。

- A (1, 1)
- B (-6, 3)
- C (-5, -5)
- D (3, -7)

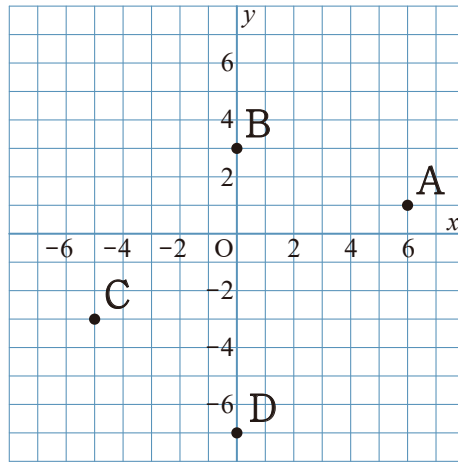


3 次の点A, Bの位置を、座標平面上に示しなさい。

- A (-2.5, 1.5)
- B ($\frac{5}{2}, -\frac{3}{2}$)



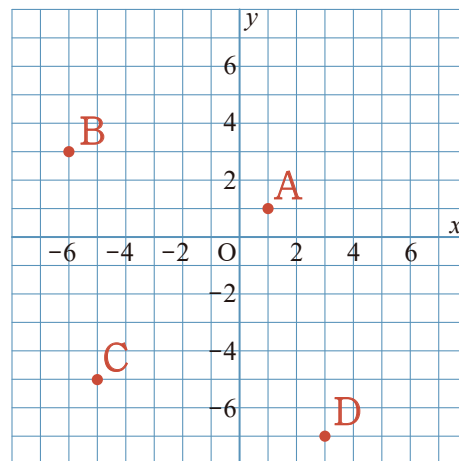
1 次の図の点A, B, C, Dの座標を答えなさい。



A (6, 1)
B (0, 3)
C (-5, -3)
D (0, -7)

2 次の点A, B, C, Dの位置を、座標平面上に示しなさい。

A (1, 1)
B (-6, 3)
C (-5, -5)
D (3, -7)



3 次の点A, Bの位置を、座標平面上に示しなさい。

A (-2.5, 1.5)
B ($\frac{5}{2}, -\frac{3}{2}$)

