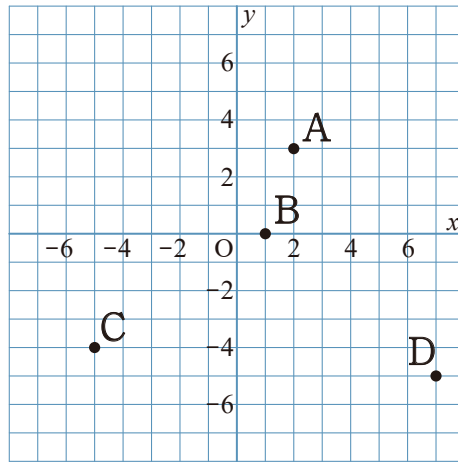
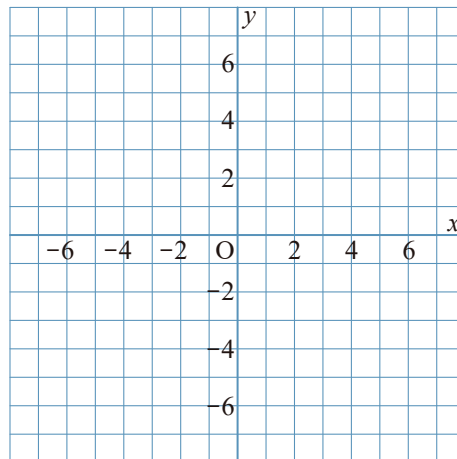


1 次の図の点A, B, C, Dの座標を答えなさい。



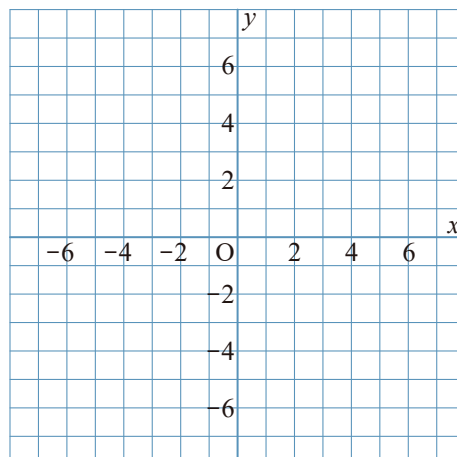
2 次の点A, B, C, Dの位置を、座標平面上に示しなさい。

- A (2, 5)
- B (-5, -2)
- C (2, -4)
- D (5, -7)

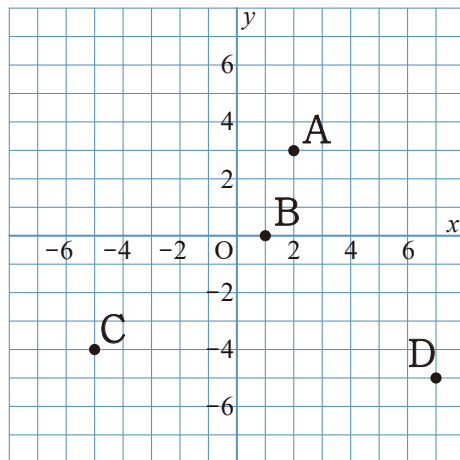


3 次の点A, Bの位置を、座標平面上に示しなさい。

- A (1.5, -2.5)
- B $(\frac{1}{2}, \frac{1}{2})$



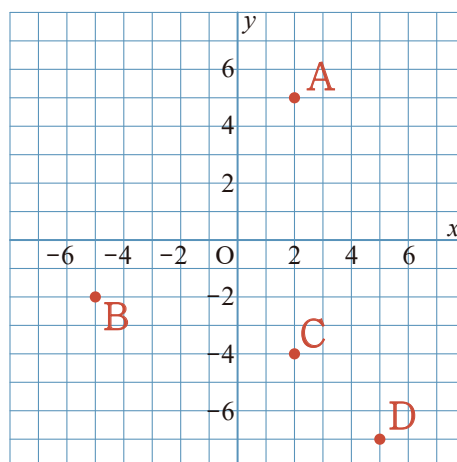
1 次の図の点A, B, C, Dの座標を答えなさい。



A (2, 3)
B (1, 0)
C (-5, -4)
D (7, -5)

2 次の点A, B, C, Dの位置を、座標平面上に示しなさい。

A (2, 5)
B (-5, -2)
C (2, -4)
D (5, -7)



3 次の点A, Bの位置を、座標平面上に示しなさい。

A (1.5, -2.5)
B ($\frac{1}{2}$, $\frac{1}{2}$)

