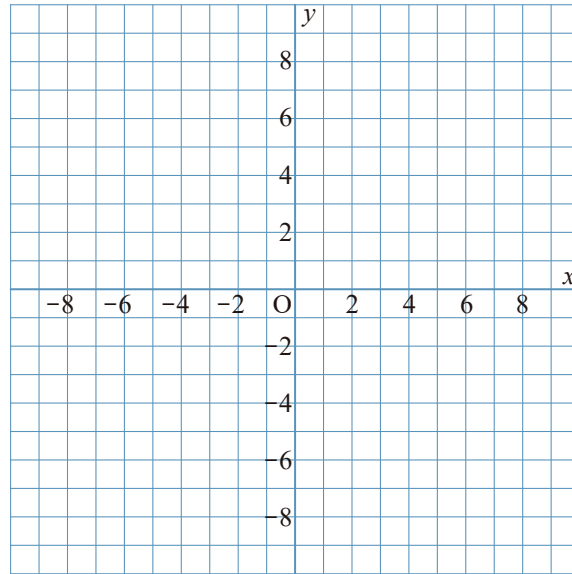


1 $y = -\frac{24}{x}$ について、次の問いに答えなさい。

① 次の表の にあてはまる数を入れて、表を完成させなさい。

x	...	-6	-5	-4	-3	-2	-1	0	1	2	3	4	5	6	...
y	...	<input type="text"/>	<input type="text"/>	<input type="text"/>	<input type="text"/>	<input type="text"/>	<input type="text"/>	×	<input type="text"/>	<input type="text"/>	<input type="text"/>	<input type="text"/>	<input type="text"/>	<input type="text"/>	...

② グラフをかきなさい。

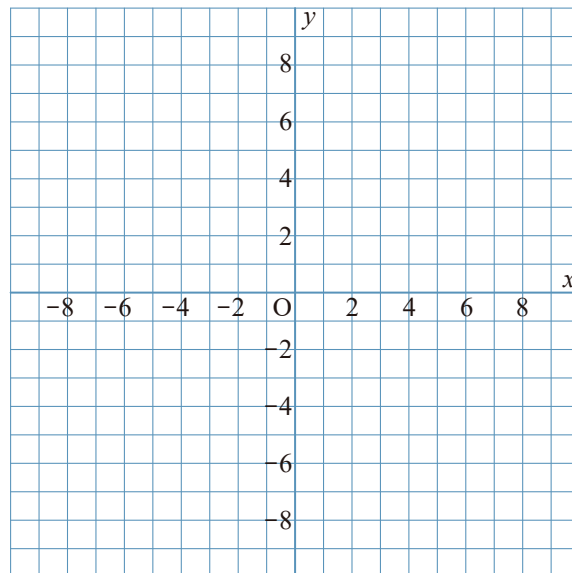


2 $y = -\frac{6}{x}$ について、次の問いに答えなさい。

① 次の表の にあてはまる数を入れて、表を完成させなさい。

x	...	-6	-5	-4	-3	-2	-1	0	1	2	3	4	5	6	...
y	...	<input type="text"/>	<input type="text"/>	<input type="text"/>	<input type="text"/>	<input type="text"/>	<input type="text"/>	×	<input type="text"/>	<input type="text"/>	<input type="text"/>	<input type="text"/>	<input type="text"/>	<input type="text"/>	...

② グラフをかきなさい。

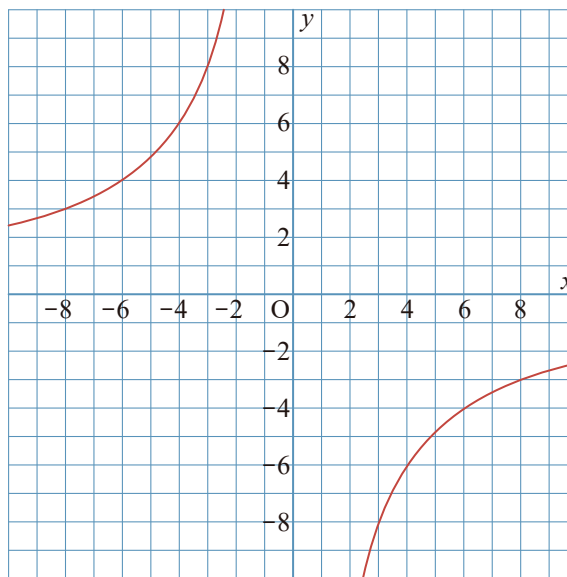


1 $y = -\frac{24}{x}$ について、次の問いに答えなさい。

① 次の表の にあてはまる数を入れて、表を完成させなさい。

x	...	-6	-5	-4	-3	-2	-1	0	1	2	3	4	5	6	...
y	...	4	4.8	6	8	12	24	×	-24	-12	-8	-6	-4.8	-4	...

② グラフをかきなさい。



2 $y = -\frac{6}{x}$ について、次の問いに答えなさい。

① 次の表の にあてはまる数を入れて、表を完成させなさい。

x	...	-6	-5	-4	-3	-2	-1	0	1	2	3	4	5	6	...
y	...	1	1.2	1.5	2	3	6	×	-6	-3	-2	-1.5	-1.2	-1	...

② グラフをかきなさい。

