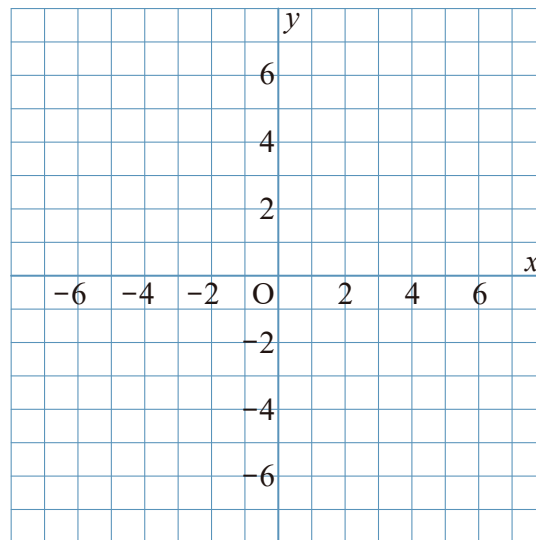


1 次のグラフをかきなさい。

①  $y = x$

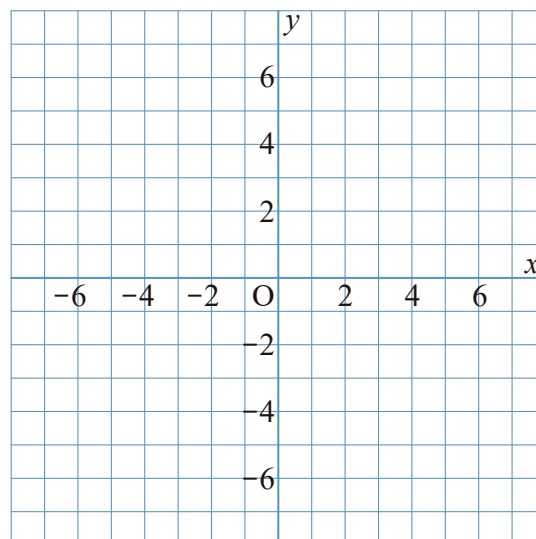
②  $y = 2x$



2 次のグラフをかきなさい。

①  $y = 3x$

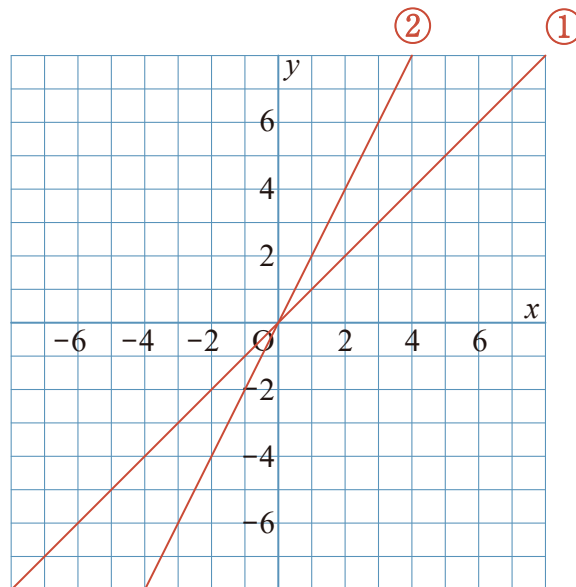
②  $y = -4x$



1 次のグラフをかきなさい。

①  $y = x$

②  $y = 2x$



2 次のグラフをかきなさい。

①  $y = 3x$

②  $y = -4x$

