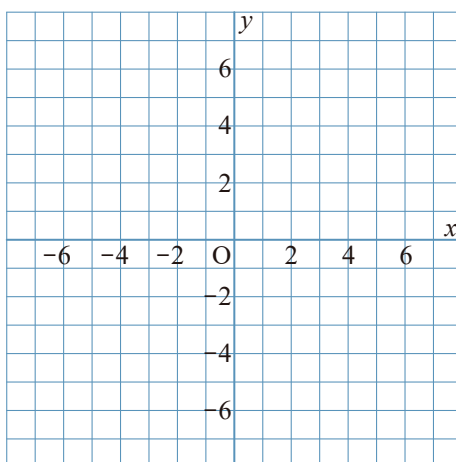


1 $y=2x$ について、次の問いに答えなさい。

① 次の表の にあてはまる数を入れて、表を完成させなさい。

x	...	-3	-2	-1	0	1	2	3	...
y	...	<input type="text"/>	<input type="text"/>	<input type="text"/>	<input type="text"/>	<input type="text"/>	<input type="text"/>	<input type="text"/>	...

② グラフをかきなさい。

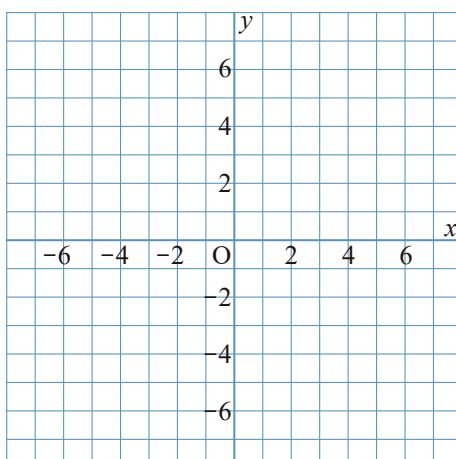


2 $y=\frac{1}{2}x$ について、次の問いに答えなさい。

① 次の表の にあてはまる数を入れて、表を完成させなさい。

x	...	-3	-2	-1	0	1	2	3	...
y	...	<input type="text"/>	<input type="text"/>	<input type="text"/>	<input type="text"/>	<input type="text"/>	<input type="text"/>	<input type="text"/>	...

② グラフをかきなさい。

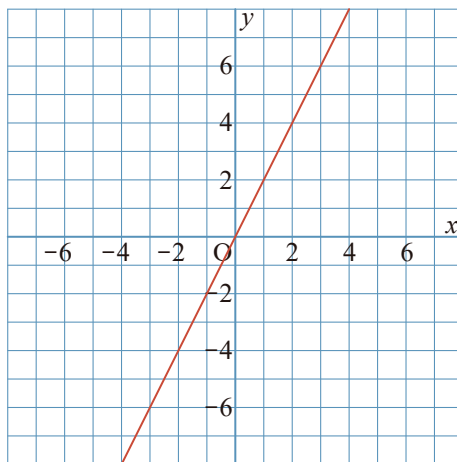


1 $y=2x$ について、次の問いに答えなさい。

① 次の表の にあてはまる数を入れて、表を完成させなさい。

x	...	-3	-2	-1	0	1	2	3	...
y	...	-6	-4	-2	0	2	4	6	...

② グラフをかきなさい。



2 $y=\frac{1}{2}x$ について、次の問いに答えなさい。

① 次の表の にあてはまる数を入れて、表を完成させなさい。

x	...	-3	-2	-1	0	1	2	3	...
y	...	$-\frac{3}{2}$	-1	$-\frac{1}{2}$	0	$\frac{1}{2}$	1	$\frac{3}{2}$...

② グラフをかきなさい。

