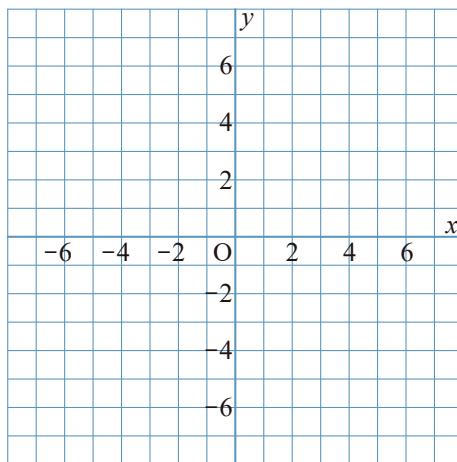


1 $y=x$ について、次の問いに答えなさい。

① 次の表の にあてはまる数を入れて、表を完成させなさい。

x	...	-3	-2	-1	0	1	2	3	...
y	...	<input type="text"/>	<input type="text"/>	<input type="text"/>	<input type="text"/>	<input type="text"/>	<input type="text"/>	<input type="text"/>	...

② グラフをかきなさい。

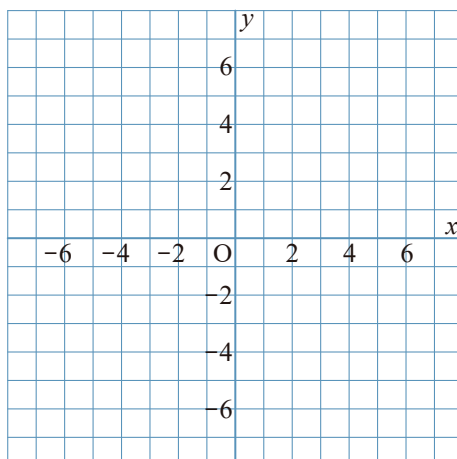


2 $y=3x$ について、次の問いに答えなさい。

① 次の表の にあてはまる数を入れて、表を完成させなさい。

x	...	-3	-2	-1	0	1	2	3	...
y	...	<input type="text"/>	<input type="text"/>	<input type="text"/>	<input type="text"/>	<input type="text"/>	<input type="text"/>	<input type="text"/>	...

② グラフをかきなさい。

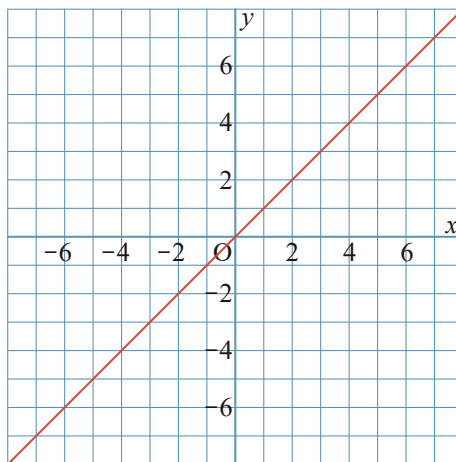


1 $y=x$ について、次の問いに答えなさい。

① 次の表の にあてはまる数を入れて、表を完成させなさい。

x	...	-3	-2	-1	0	1	2	3	...
y	...	-3	-2	-1	0	1	2	3	...

② グラフをかきなさい。



2 $y=3x$ について、次の問いに答えなさい。

① 次の表の にあてはまる数を入れて、表を完成させなさい。

x	...	-3	-2	-1	0	1	2	3	...
y	...	-9	-6	-3	0	3	6	9	...

② グラフをかきなさい。

