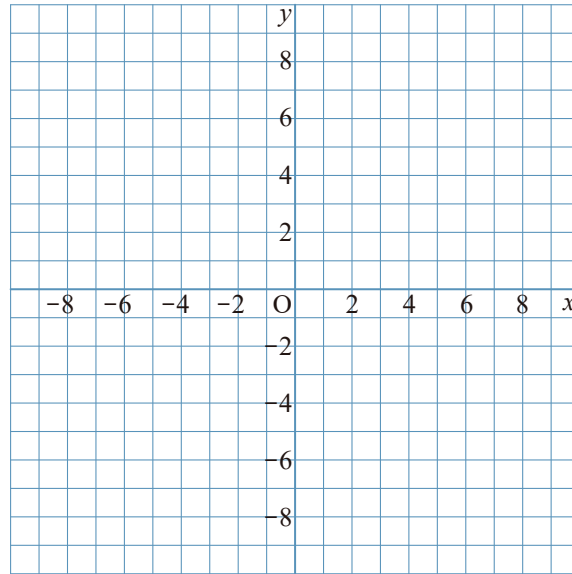


1 $y = \frac{24}{x}$ について、次の問いに答えなさい。

① 次の表の にあてはまる数を入れて、表を完成させなさい。

x	...	-6	-5	-4	-3	-2	-1	0	1	2	3	4	5	6	...
y	...	<input type="text"/>	<input type="text"/>	<input type="text"/>	<input type="text"/>	<input type="text"/>	<input type="text"/>	×	<input type="text"/>	<input type="text"/>	<input type="text"/>	<input type="text"/>	<input type="text"/>	<input type="text"/>	...

② グラフをかきなさい。

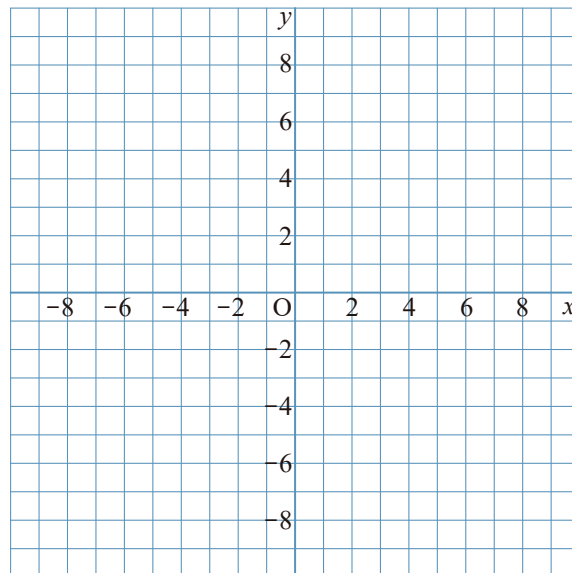


2 $y = \frac{6}{x}$ について、次の問いに答えなさい。

① 次の表の にあてはまる数を入れて、表を完成させなさい。

x	...	-6	-5	-4	-3	-2	-1	0	1	2	3	4	5	6	...
y	...	<input type="text"/>	<input type="text"/>	<input type="text"/>	<input type="text"/>	<input type="text"/>	<input type="text"/>	×	<input type="text"/>	<input type="text"/>	<input type="text"/>	<input type="text"/>	<input type="text"/>	<input type="text"/>	...

② グラフをかきなさい。

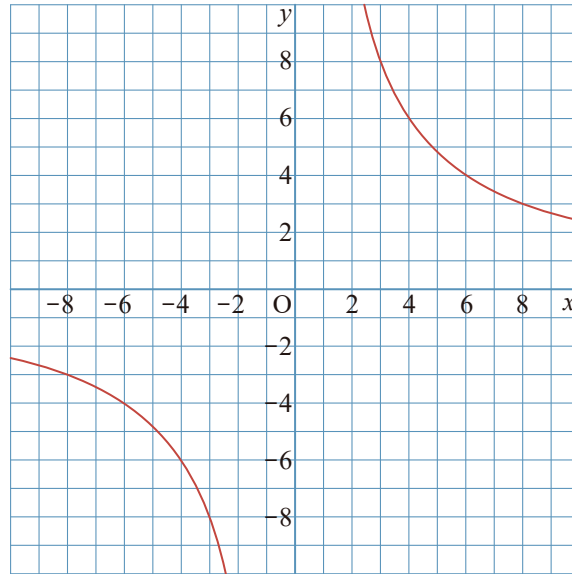


1 $y = \frac{24}{x}$ について、次の問いに答えなさい。

① 次の表の にあてはまる数を入れて、表を完成させなさい。

x	...	-6	-5	-4	-3	-2	-1	0	1	2	3	4	5	6	...
y	...	-4	-4.8	-6	-8	-12	-24	×	24	12	8	6	4.8	4	...

② グラフをかきなさい。



2 $y = \frac{6}{x}$ について、次の問いに答えなさい。

① 次の表の にあてはまる数を入れて、表を完成させなさい。

x	...	-6	-5	-4	-3	-2	-1	0	1	2	3	4	5	6	...
y	...	-1	-1.2	-1.5	-2	-3	-6	×	6	3	2	1.5	1.2	1	...

② グラフをかきなさい。

